

Единый государственный экзамен по ГЕОГРАФИИ**Демонстрационный вариант
контрольных измерительных материалов
единого государственного экзамена 2025 года
по ГЕОГРАФИИ**

подготовлен федеральным государственным бюджетным
научным учреждением
«ФЕДЕРАЛЬНЫЙ ИНСТИТУТ ПЕДАГОГИЧЕСКИХ ИЗМЕРЕНИЙ»

Единый государственный экзамен по ГЕОГРАФИИ**Пояснения к демонстрационному варианту контрольных
измерительных материалов единого государственного экзамена
2025 года по ГЕОГРАФИИ**

При ознакомлении с демонстрационным вариантом контрольных измерительных материалов (КИМ) единого государственного экзамена (ЕГЭ) 2025 г. следует иметь в виду, что задания, включённые в него, не отражают всех элементов содержания, которые будут проверяться с помощью вариантов КИМ в 2025 г. Полный перечень элементов содержания, которые могут контролироваться на едином государственном экзамене 2025 г., приведён в кодификаторе проверяемых требований к результатам освоения основной образовательной программы среднего общего образования и элементов содержания для проведения единого государственного экзамена по географии.



В демонстрационном варианте представлены конкретные примеры заданий, не исчерпывающие всего многообразия возможных формулировок заданий на каждой позиции варианта экзаменационной работы.

Назначение демонстрационного варианта заключается в том, чтобы дать возможность любому участнику ЕГЭ и широкой общественности составить представление о структуре будущих КИМ, количестве заданий, об их форме и уровне сложности.

В демонстрационном варианте представлено по несколько примеров заданий на некоторых позициях экзаменационной работы. В реальных вариантах экзаменационной работы на каждой позиции будет предложено только одно задание.

Приведённые критерии оценки выполнения заданий с развёрнутым ответом, включённые в этот вариант, дают представление о требованиях к полноте и правильности записи развёрнутого ответа.

Эти сведения позволят выпускникам выработать стратегию подготовки к ЕГЭ в 2025 г.

**Демонстрационный вариант
контрольных измерительных материалов
единого государственного экзамена
по ГЕОГРАФИИ**

Инструкция по выполнению работы

Экзаменационная работа включает в себя 29 заданий: 21 задание с кратким ответом и 8 заданий с развернутым ответом. На выполнение экзаменационной работы по географии отводится 3 часа (180 минут).

Ответы к заданиям 1–21 записываются в виде числа, последовательности цифр или слова (словосочетания). Ответ запишите по приведённым ниже образцам в поле ответа в тексте работы, а затем перенесите в бланк ответов № 1. Если ответ на задание имеет единицу измерения, то при переносе ответа на бланк следует записать только полученное число. Единицы измерения в ответе указывать не надо.

КИМ Ответ:

3	1	2
---	---	---

3	1	2							
---	---	---	--	--	--	--	--	--	--

 Бланк

Ответ:

А	Б	В
3	2	1

3	2	1							
---	---	---	--	--	--	--	--	--	--

Ответ: 34

3	4								
---	---	--	--	--	--	--	--	--	--

Ответ: -1,8 тыс. человек

-	1	,	8						
---	---	---	---	--	--	--	--	--	--

Ответ: КУРСКАЯ область

К	У	Р	С	К	А	Я			
---	---	---	---	---	---	---	--	--	--

Задания 22–29 требуют развернутого ответа. В заданиях 22–29 требуется записать полный ответ на поставленный вопрос или решение задачи. В бланке ответов № 2 укажите номер задания и запишите ответ на него.

Все бланки ЕГЭ заполняются яркими чёрными чернилами. Допускается использование гелевой или капиллярной ручки.

При выполнении заданий можно пользоваться черновиком. **Записи в черновике, а также в тексте контрольных измерительных материалов не учитываются при оценивании работы.** Также можно использовать прилагаемые справочные материалы и непрограммируемый калькулятор.

Баллы, полученные Вами за выполненные задания, суммируются. Постарайтесь выполнить как можно больше заданий и набрать наибольшее количество баллов.

После завершения работы проверьте, чтобы ответ на каждое задание в бланках ответов № 1 и № 2 был записан под правильным номером.

Желаем успеха!

Ответами к заданиям 1–21 являются число, последовательность цифр или слово (словосочетание). Ответ запишите в поле ответа в тексте работы, а затем перенесите в БЛАНК ОТВЕТОВ № 1 справа от номера соответствующего задания, начиная с первой клеточки. Последовательность цифр записывайте без пробелов, запятых и других дополнительных символов. Каждый символ пишите в отдельной клеточке в соответствии с приведёнными в бланке образцами.

- 1** Город Лабулае имеет географические координаты 34° 08' ю.ш. 63° 23' з.д. Определите, на территории какого государства находится этот город.

Ответ: _____.

- 2** В пунктах 1, 2 и 3 были одновременно проведены измерения температуры и относительной влажности воздуха. Полученные значения показаны в таблице. Расположите эти пункты в порядке повышения в них показателя абсолютной влажности воздуха (от наиболее низкой к наиболее высокой).

Пункт	Температура воздуха, °С	Относительная влажность воздуха, %
1	+10	45
2	+16	50
3	+19	65

Запишите в таблицу получившуюся последовательность цифр.

Ответ:

--	--	--

ИЛИ

На метеостанциях 1, 2 и 3, расположенных на склоне горы, были одновременно проведены измерения атмосферного давления. Высоты метеостанций над уровнем моря показаны в таблице. Расположите эти метеостанции в порядке повышения значений атмосферного давления (от наиболее низкого к наиболее высокому).

Метеостанция	Высота над уровнем моря, м
1	650
2	850
3	1250

Запишите в таблицу получившуюся последовательность цифр.

Ответ:

--	--	--

3 Агроклиматические ресурсы территории оценивают по двум факторам – её тепло- и влагообеспеченности. Одна из основных характеристик теплообеспеченности – сумма температур воздуха за период со средними суточными значениями выше 10 °С, когда происходит активная вегетация растений. Эти данные применяются для характеристики условий роста и развития растений. Расположите перечисленные регионы России в порядке увеличения суммы активных температур на их территории, начиная с региона с самым низким значением этого показателя.

- 1) Республика Крым
- 2) Тверская область
- 3) Белгородская область

Запишите в таблицу получившуюся последовательность цифр.

Ответ:

--	--	--

ИЛИ

Эффективность работы солнечных панелей, используемых для энергоснабжения жилых домов, во многом зависит от продолжительности светового дня. Расположите перечисленные города в порядке увеличения продолжительности светового дня 1 мая, начиная с города с его наименьшей продолжительностью.

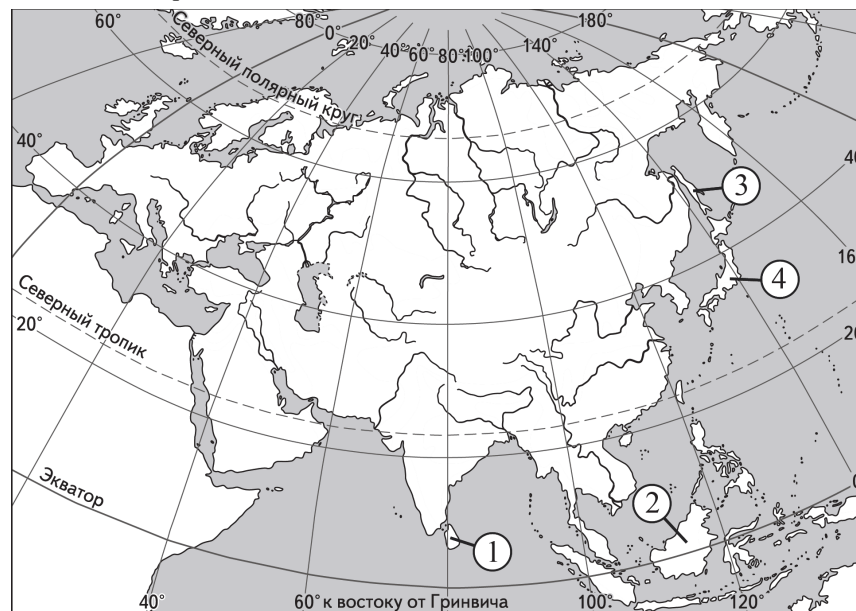
- 1) Ханты-Мансийск
- 2) Омск
- 3) Воркута

Запишите в таблицу получившуюся последовательность цифр.

Ответ:

--	--	--

4 Установите соответствие между островом и его обозначением на карте Евразии: к каждому элементу первого столбца подберите соответствующий элемент из второго столбца.



ОСТРОВ **ОБОЗНАЧЕНИЕ НА КАРТЕ**

- | | |
|---------------|------|
| А) Сахалин | 1) 1 |
| Б) Калимантан | 2) 2 |
| В) Шри-Ланка | 3) 3 |
| | 4) 4 |

Запишите в таблицу выбранные цифры под соответствующими буквами.

Ответ:

А	Б	В

ИЛИ

Расположите перечисленные реки с запада на восток в том порядке, в котором они расположены на карте Евразии, начиная с самой западной.

- 1) Енисей
- 2) Лена
- 3) Дунай

Запишите в таблицу получившуюся последовательность цифр.

Ответ:

--	--	--

- 5 Прочитайте приведённый ниже текст, в котором пропущен ряд слов (чисел, словосочетаний). Выберите из предлагаемого списка слова (числа, словосочетание), которые необходимо вставить на места пропусков.

Атмосферное давление

Воздух, окружающий Землю, имеет значительную массу и поэтому оказывает давление на земную поверхность. Нормальным атмосферным давлением считается давление столба ртути высотой _____ (А) мм на уровне моря при температуре 0 °С на широте 45°. При увеличении абсолютной высоты атмосферное давление _____ (Б). У поверхности Земли атмосферное давление распределяется неравномерно, образуя пояса высокого и низкого давления. Повышенное атмосферное давление в течение всего года преобладает в тропических и _____ (В) широтах.

Выбирайте последовательно одно слово (число, словосочетание) за другим, мысленно вставляя на места пропусков слова (числа, словосочетание) из списка в нужной форме. Обратите внимание на то, что слов (чисел, словосочетаний) в списке больше, чем Вам потребуется для заполнения пропусков. Каждое слово (число, словосочетание) может быть использовано только один раз.

Список слов (чисел, словосочетаний):

- 1) умеренный
- 2) арктический и антарктический
- 3) повышается
- 4) 740
- 5) понижается
- 6) 760

В данной ниже таблице приведены буквы, обозначающие пропущенные слова (числа, словосочетание). Запишите в таблицу под каждой буквой номер выбранного Вами слова (числа, словосочетания).

	А	Б	В
Ответ:			

ИЛИ

- Прочитайте приведённый ниже текст, в котором пропущен ряд слов (словосочетаний). Выберите из предлагаемого списка слова (словосочетания), которые необходимо вставить на места пропусков.

Демографические особенности Вьетнама

По официальным данным в 2022 г. численность населения Вьетнама составляла 98,1 млн человек. В стране наблюдается миграционная убыль населения: количество выезжающих из страны людей – _____ (А) – превышает количество въезжающих в страну на постоянное место жительства. Население страны увеличивается за счёт превышения числа родившихся над числом умерших людей, которое компенсирует миграционную убыль. На протяжении последних десятилетий рождаемость во Вьетнаме постепенно снижается, что в сочетании с ростом _____ (Б) приводит к увеличению доли лиц в возрасте _____ (В) лет.

Выбирайте последовательно одно слово (словосочетание) за другим, мысленно вставляя на места пропусков слова (словосочетания) из списка в нужной форме. Обратите внимание на то, что слов (словосочетаний) в списке больше, чем Вам потребуется для заполнения пропусков. Каждое слово (словосочетание) может быть использовано только один раз.

Список слов (словосочетаний):

- 1) младше 15
- 2) иммигранты
- 3) эмигранты
- 4) средняя продолжительность жизни
- 5) старше 65
- 6) смертность

В данной ниже таблице приведены буквы, обозначающие пропущенные слова (словосочетания). Запишите в таблицу под каждой буквой номер выбранного Вами слова (словосочетания).

	А	Б	В
Ответ:			

ИЛИ

Прочитайте приведённый ниже текст, в котором пропущен ряд слов (словосочетаний). Выберите из предлагаемого списка слова (словосочетания), которые необходимо вставить на места пропусков.

Географические особенности Поволжья

Территория района вытянута вдоль Волги с севера на юг более чем на тысячу километров. Положение на перекрёстке транспортных путей, связывающих Европейский и Азиатский макрорегионы, делает ЭП района очень выгодным.

Земельные ресурсы – большое богатство Поволжья. Около 60 % сельскохозяйственных земель приходится на плодородные _____ (А) и каштановые почвы. Среди минеральных ресурсов основные – _____ (Б) и поваренная соль.

В промышленности ведущая роль принадлежит химической промышленности и _____ (В). Большое значение в хозяйстве района имеет электроэнергетика. На территории района находится четыре ГЭС из Волго-Камского каскада. В Саратовской области расположена Балаковская АЭС – одна из крупнейших по выработке электроэнергии среди атомных электростанций в России.

Выбирайте последовательно одно слово (словосочетание) за другим, мысленно вставляя на места пропусков слова (словосочетания) из списка в нужной форме. Обратите внимание на то, что слов (словосочетаний) в списке больше, чем Вам потребуется для заполнения пропусков. Каждое слово (словосочетание) может быть использовано только один раз.

Список слов (словосочетаний):

- 1) железные руды
- 2) машиностроение
- 3) подзолистые
- 4) чёрная металлургия
- 5) нефть и газовый конденсат
- 6) чернозёмные

В данной ниже таблице приведены буквы, обозначающие пропущенные слова (словосочетания). Запишите в таблицу под каждой буквой номер выбранного Вами слова (словосочетания).

Ответ:

А	Б	В

ИЛИ

Прочитайте приведённый ниже текст, в котором пропущен ряд слов (словосочетаний). Выберите из предлагаемого списка слова (словосочетания), которые необходимо вставить на места пропусков.

Рельеф и полезные ископаемые Центральной России

Главная особенность рельефа Центральной России – его равнинность. В основании территории района находится _____ (А). С породами осадочного чехла связаны месторождения _____ (Б), добыча которого долгое время велась в Подмосковном бассейне, но в настоящее время практически прекращена. На территории Центральной России в уникальном бассейне Курской магнитной аномалии добывают железные руды. Железородный бассейн находится на территории Курской, _____ (В) и Орловской областей.

Выбирайте последовательно одно слово (словосочетание) за другим, мысленно вставляя на места пропусков слова (словосочетания) из списка в нужной форме. Обратите внимание на то, что слов (словосочетаний) в списке больше, чем Вам потребуется для заполнения пропусков. Каждое слово (словосочетание) может быть использовано только один раз.

Список слов (словосочетаний):

- 1) бурый уголь
- 2) Смоленская
- 3) природный газ
- 4) плита молодой платформы
- 5) Белгородская
- 6) древняя платформа

В данной ниже таблице приведены буквы, обозначающие пропущенные слова (словосочетания). Запишите в таблицу под каждой буквой номер выбранного Вами слова (словосочетания).

Ответ:

А	Б	В

6 Национальная программа «Цифровая экономика Российской Федерации» предусматривает к 2030 г. обеспечение интернетом всего населения страны, в том числе на территориях с низкой плотностью населения.

Какие три из перечисленных регионов России имеют **наименьшую** среднюю плотность населения? Запишите в таблицу цифры, под которыми указаны эти регионы.

- 1) Республика Крым
- 2) Республика Коми
- 3) Тамбовская область
- 4) Белгородская область
- 5) Архангельская область
- 6) Мурманская область

Ответ:

--	--	--

ИЛИ

Крупные города часто становятся ядрами агломераций и способствуют развитию окружающих их территорий.

Какие три из перечисленных городов России имеют наибольшую численность населения? Запишите в таблицу цифры, под которыми указаны эти города.

- 1) Пермь
- 2) Ульяновск
- 3) Омск
- 4) Саратов
- 5) Томск
- 6) Красноярск

Ответ:

--	--	--

7 Установите соответствие между страной и диаграммой, отражающей распределение её экономически активного населения по секторам экономики: к каждой позиции, данной в первом столбце, подберите соответствующую позицию из второго столбца.

■ – промышленность ■ – сельское хозяйство □ – сфера услуг

СТРАНА		РАСПРЕДЕЛЕНИЕ ЭКОНОМИЧЕСКИ АКТИВНОГО НАСЕЛЕНИЯ
А) Япония	1)	
Б) Турция	2)	
В) Республика Конго	3)	

Запишите в таблицу выбранные цифры под соответствующими буквами.

Ответ:

А	Б	В

8 Расположите перечисленные страны в порядке возрастания в них показателя рождаемости (на тыс. человек), начиная со страны с наименьшим значением этого показателя.

- 1) Болгария
- 2) Турция
- 3) ДР Конго

Запишите в таблицу получившуюся последовательность цифр.

Ответ:

ИЛИ

Расположите перечисленные страны в порядке возрастания в них показателя ИЧР (индекса человеческого развития), начиная со страны с наименьшим значением этого показателя.

- 1) Ангола
- 2) Австралия
- 3) Малайзия

Запишите в таблицу получившуюся последовательность цифр.

Ответ:

9 Россия входит в число крупнейших мировых производителей угля. В каких трёх из перечисленных регионов России ведётся добыча каменного угля? Запишите цифры, под которыми указаны эти регионы.

- 1) Республика Коми
- 2) Кемеровская область – Кузбасс
- 3) Республика Татарстан
- 4) Курская область
- 5) Республика Саха (Якутия)
- 6) Белгородская область

Ответ:

ИЛИ

Россия относится к числу крупнейших мировых производителей и экспортёров природного газа.

Какие три из перечисленных стран также входят в число крупных производителей природного газа? Запишите в таблицу цифры, под которыми указаны эти страны.

- 1) Эфиопия
- 2) Швеция
- 3) США
- 4) Алжир
- 5) Бразилия
- 6) Катар

Ответ:

10 На основе анализа данных приведённой ниже таблицы укажите все регионы, в которых в период с 2019 по 2021 г. ежегодно увеличивались объёмы добычи полезных ископаемых. Запишите цифры, под которыми указаны эти регионы.

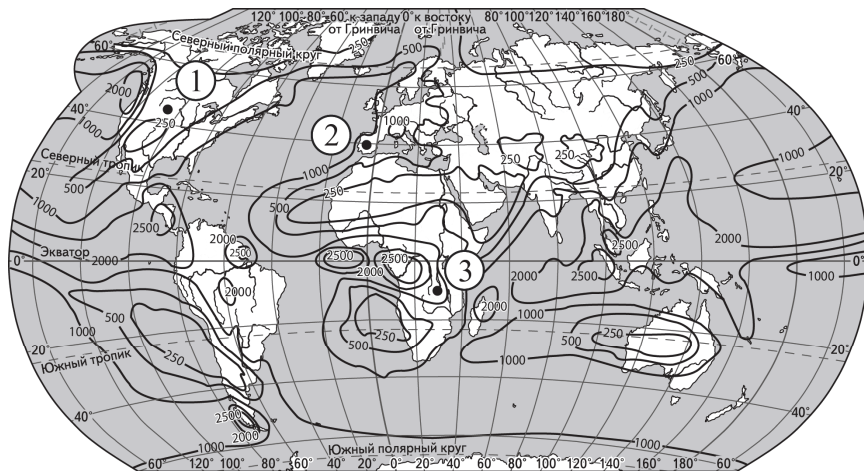
Динамика добычи полезных ископаемых
(в % к предыдущему году)

Регион	2019 г.	2020 г.	2021 г.
1) Белгородская область	99,7	101,5	103,8
2) Тульская область	112,2	102,4	103,9
3) Чувашская Республика	122,0	107,1	105,0
4) Свердловская область	98,5	103,2	103,4

Ответ: _____.

11 С помощью карты сравните среднегодовое количество атмосферных осадков в точках, обозначенных на карте цифрами 1, 2 и 3. Расположите эти точки в порядке увеличения количества осадков, выпадающих в них.

Среднегодовое количество атмосферных осадков (в мм)



—1000— Изогеты (линии равного количества осадков)

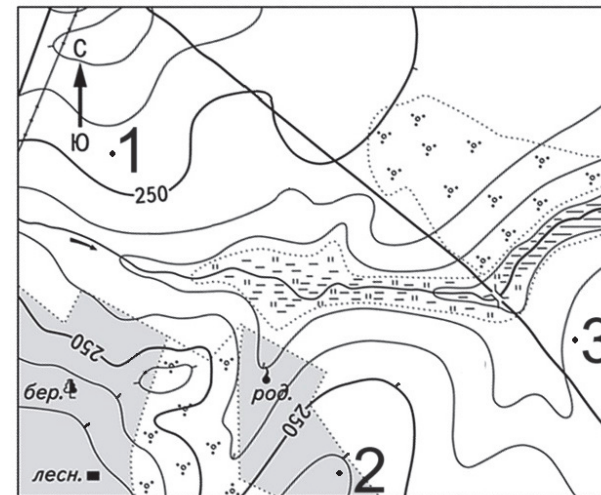
Запишите в таблицу получившуюся последовательность цифр.

Ответ:

--	--	--


ИЛИ

С помощью карты сравните абсолютные высоты точек, обозначенных на карте цифрами 1, 2 и 3. Расположите эти точки в порядке увеличения их абсолютных высот.



Масштаб 1:10 000

В 1 см 100 м



Горизонтالي проведены через 5 метров

Запишите в таблицу получившуюся последовательность цифр.

Ответ:

--	--	--

12 Выберите все высказывания с информацией о демографической политике и запишите цифры, под которыми они указаны.

- 1) До 2016 г. в Китае семьям, проживающим в городах, разрешалось иметь не более одного ребёнка, а семьям из сельских районов – не более двух, если первый ребёнок – девочка.
- 2) Причина снижения рождаемости в России в настоящее время – низкая рождаемость в 1990-х гг.
- 3) Доля горожан в общей численности населения Китая продолжает увеличиваться; в 2022 г. в городах проживало 64 % населения страны.
- 4) Правительство России реализует целый комплекс мер, направленный на стимулирование рождаемости, материальную поддержку семей, имеющих детей.
- 5) На 1 января 2022 г. в России численность мужчин составляла 67,7 млн человек, женщин – 77,9 млн человек.

Ответ: _____.

13 Расположите события в геологической истории Земли в хронологическом порядке, начиная с самого раннего.

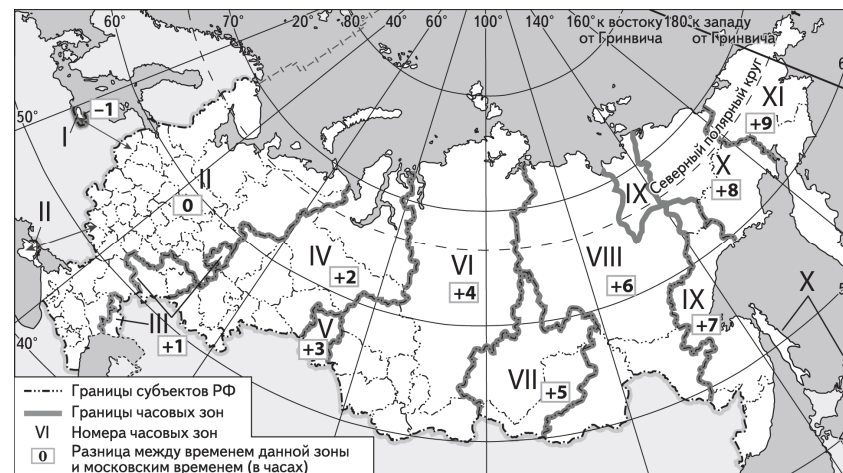
- 1) Вымирание динозавров произошло в меловом периоде.
- 2) Появление сумчатых млекопитающих и первых птиц относится к юрскому периоду.
- 3) В девонском периоде появились земноводные и широко распространились споровые растения.

Запишите в таблицу получившуюся последовательность цифр.

Ответ:

--	--	--

14 Прямая трансляция финала 29-го розыгрыша Кубка России по футболу между командами «Локомотив» и «Крылья Советов» началась 12 мая 2021 г. в 20 ч по московскому времени. Используя карту, определите, во сколько часов по местному времени эта трансляция началась в Омске.



Ответ запишите в виде числа.

Ответ: _____ ч.

15 Иран относится к числу крупных производителей природного газа. Определите показатель ресурсообеспеченности Ирана природным газом по состоянию на 2022 г., если известно, что величина разведанных запасов природного газа составляла 32 116 млрд м³, а объём добычи – 259 млрд м³. Ответ запишите в виде числа.

Ответ: _____ лет/года.

16

Используя данные диаграммы, определите значение показателя миграционного прироста населения Республики Башкортостан в 2020 г. Ответ запишите в виде числа (по образцу, указанному в инструкции по выполнению работы).

Распределение числа мигрантов по основным потокам передвижения в Республике Башкортостан, 2020 г. (тыс. человек)



Ответ: _____ тыс. человек.

ИЛИ

На численность населения субъектов Российской Федерации заметное влияние оказывают как естественное движение населения, так и миграции. Используя данные таблицы, определите значение показателя миграционного прироста населения Республики Хакасия в 2021 г.

Численность и естественный прирост населения Республики Хакасия (человек)

Показатель	2020 г.	2021 г.	2022 г.
Численность постоянного населения на 1 января	534 262	532 036	528 338
Среднегодовая численность населения	533 149	530 187	Нет данных
Естественный прирост населения, значение показателя за год	-2121	-3266	Нет данных

Ответ запишите в виде числа.

Ответ: _____ человек(а).

17

Определите страну по её краткому описанию.

Это одна из экономически высокоразвитых стран мира. Большую часть её территории занимают горы, характерны высокая сейсмичность и активный вулканизм. Страна расположена на пути тайфунов, зарождающихся в океане. Из-за большой протяжённости её территории климатические условия разнообразны. Несмотря на то, что страна бедна полезными ископаемыми, она входит в число мировых лидеров по производству многих видов промышленной продукции: автомобилей, стали, продукции химической промышленности. По составу населения она является однонациональной. Доля городского населения в общей численности населения страны превышает 90 %.

Ответ: _____.

18

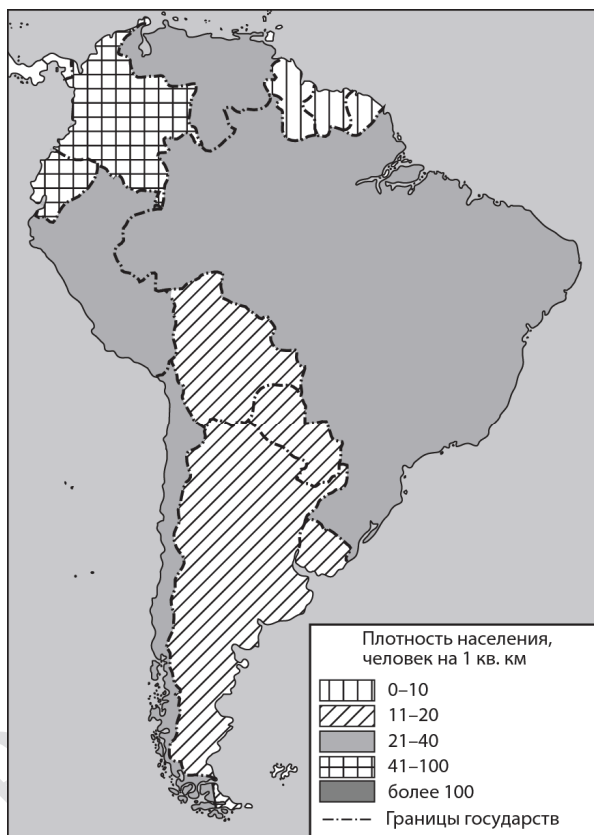
Определите регион России по его краткому описанию.

Особенность географического положения этой республики в составе Российской Федерации – наличие выхода к морю и Государственной границе. Большую часть её территории занимают хвойные леса, в общем объёме промышленного производства значительна доля производства бумаги, картона и целлюлозы. Ведётся добыча железных руд, развито производство железорудного концентрата. Ведущее направление сельскохозяйственного производства – молочное и мясное животноводство. Численность населения в республике в 2022 г. составляла около 600 тыс. человек. Доля городского населения в общей численности населения превышала 80 %. Средняя плотность населения составляла примерно 3,5 человек на км².

Ответ: Республика _____.

Задания 19 и 20 выполняются с использованием справочных материалов и приведённой ниже карты.

Южная Америка. Плотность населения



19 Расположите перечисленные страны в порядке возрастания в них плотности населения, начиная со страны с наименьшим значением этого показателя.

- 1) Суринам
- 2) Аргентина
- 3) Боливия

Запишите в таблицу получившуюся последовательность цифр.

Ответ:

--	--	--

20 Светлане необходимо составить карту «Африка. Плотность населения», используя такую же интервальную шкалу, как на приведённой выше карте Южной Америки.

Установите соответствие между страной и условным обозначением, которое необходимо использовать для отображения плотности населения каждой из перечисленных стран на карте: к каждой позиции, данной в первом столбце, подберите соответствующую позицию из второго столбца.

СТРАНА	УСЛОВНОЕ ОБОЗНАЧЕНИЕ, человек/км ²
А) Алжир	1) 0–10
Б) Габон	2) 11–20
В) Зимбабве	3) 21–40
	4) 41–100
	5) более 100

Запишите в таблицу выбранные цифры под соответствующими буквами.

Ответ:

А	Б	В

Задания 21–23 выполняются с использованием приведённого ниже текста. Ответ на задание 21 запишите в поле ответа в тексте работы, а затем перенесите в БЛАНК ОТВЕТОВ № 1. Для записи ответов на задания 22 и 23 используйте БЛАНК ОТВЕТОВ № 2. Запишите сначала номер задания (22 или 23), а затем развёрнутый ответ на него. Ответы записывайте чётко и разборчиво.

ССК «Звезда» построил два уникальных судна

В сентябре 2023 г. в присутствии Президента России В.В. Путина на судостроительном комплексе «Звезда» в Приморском крае были спущены на воду два уникальных судна. Одно из них – единственный в мире по своим характеристикам танкер-челнок усиленного ледового класса, построенный по заказу «Роснефтефлота». Другое судно – газовоз ледового класса, предназначенный для перевозки сжиженного природного газа и способный работать в суровых климатических условиях. В движение судно приводят три уникальные винто-рулевые колонки, которые производятся в городе Большой Камень на предприятии ВРК «Сапфир». Строительство этих судов – ещё один пример успешного импортозамещения.

21 Назовите географический район, в котором находится Приморский край.

Ответ: _____.

22 Объясните, что означает использованный в тексте термин «импортозамещение».

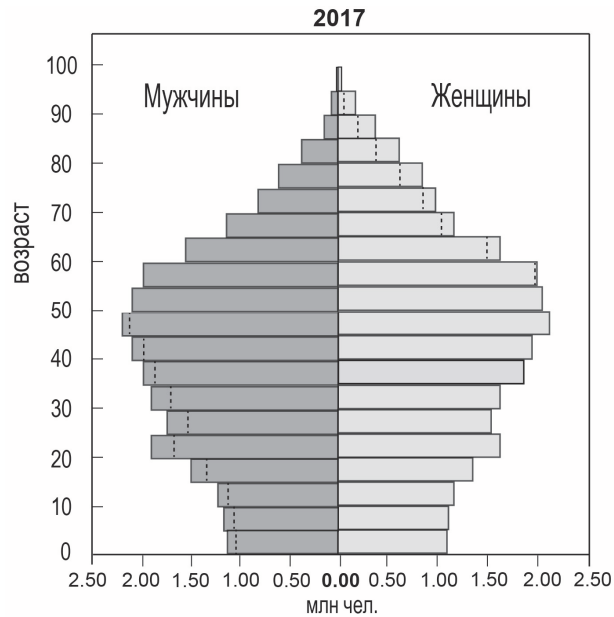
23 С чем связана актуальность для России строительства танкеров и газовозов ледового класса в настоящее время?

Для записи ответов на задания 24–29 используйте БЛАНК ОТВЕТОВ № 2. Запишите сначала номер задания (24, 25 и т.д.), а затем развёрнутый ответ на него. Ответы записывайте чётко и разборчиво.

24 На основе анализа данных таблиц справочных материалов предположите, какая из стран: Алжир или Боливия – находилась в 2017 г. выше в рейтинге ООН по индексу человеческого развития (ИЧР). Для обоснования Вашего ответа запишите необходимые числовые данные из таблиц и вычисления, на основании которых Вы сделали своё предположение.

25 Используя данные справочных материалов, сравните доли населения, занятого в сельском хозяйстве, и доли сельского хозяйства в общих объёмах экспорта Судана и Марокко. Сделайте вывод, в какой из этих стран сельское хозяйство играло большую роль в экономике в 2017 г. Для обоснования Вашего ответа запишите необходимые числовые данные и вычисления.

26 В 2017 г. численность населения Республики Корея составляла 51 млн человек, рождаемость – 8‰, смертность – 6‰. При этом значение суммарного коэффициента рождаемости – числа рождений, приходящихся на одну женщину в возрасте от 15 до 49 лет – составляло 1,25. Ниже приводится половозрастная пирамида Республики Корея в 2017 г.

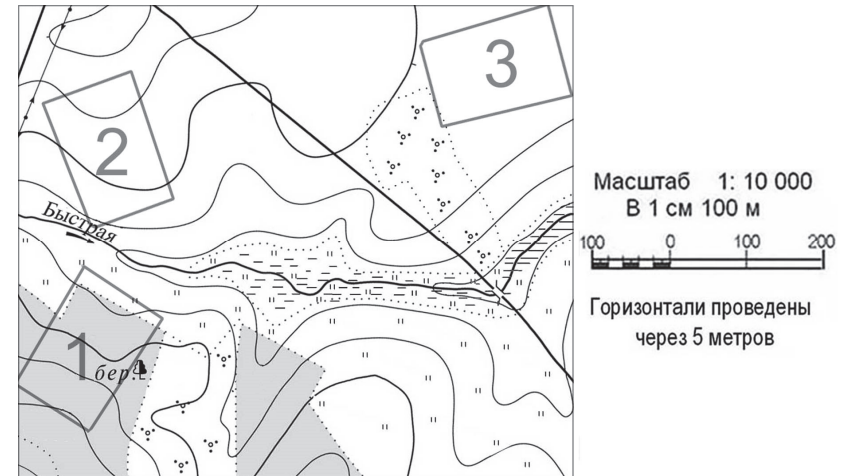


Объясните, почему в Республике Корея в ближайшие 20 лет при сохранении такого же суммарного коэффициента рождаемости, как в 2017 г., прогнозируется уменьшение рождаемости и увеличение смертности. Укажите две причины.

ИЛИ

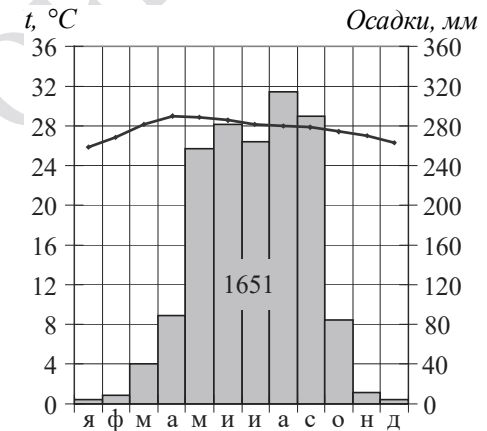
В условиях длинного полярного дня температура воздуха в Арктике в летние месяцы повышается, но при этом на большей части акватории она не превышает 0 °С. Почему в Арктике температура воздуха самого тёплого месяца близка к 0 °С, при том что Солнце в это время не заходит за горизонт? Укажите две причины.

27 Определите, в пределах какого из участков, обозначенных на карте цифрами 1, 2 и 3, наиболее вероятно развитие водной эрозии почвенного слоя. Для обоснования Вашего ответа приведите два довода.



ИЛИ

Определите, в каком из 13 климатических поясов Земли расположен пункт, характеристики климата которого показаны на климатограмме. Для обоснования Вашего ответа приведите два довода.



- 28 Определите географическую долготу пункта, если известно, что в полдень по солнечному времени Гринвичского меридиана местное солнечное время в нём 14 ч 40 мин. Запишите решение задачи.

ИЛИ

С корабля, находящегося в точке с координатами 3° с.ш. 134° в.д., поступило радиосообщение о неисправности двигателя. Какое расстояние (в км) до неисправного судна пройдёт ремонтный корабль из порта Маноквари (0° ш. 134° в.д.), если известно, что корабль будет идти строго по меридиану, а неисправное судно останется в той же точке, откуда было передано сообщение? Ответ округлите до целого числа. Запишите решение задачи.

- 29 Площади под плантациями масличной пальмы в тропических странах и объёмы производства пальмового масла растут с каждым годом. Пальмовое масло используется как для изготовления продуктов питания и косметики, так и в производстве биотоплива для автомобилей. Между учащимися на уроке возникла дискуссия, в ходе которой часть из них придерживалась той точки зрения, что расширение производства и использования пальмового масла способствует сохранению окружающей среды. Другие утверждали, что расширение производства и использования пальмового масла препятствует сохранению окружающей среды. Приведите по одному аргументу в поддержку каждой из точек зрения.



Проверьте, чтобы каждый ответ на бланках ответов № 1 и № 2 был записан рядом с правильным номером задания.

Система оценивания экзаменационной работы по географии

Правильное выполнение каждого из заданий 1–4, 6–11, 13–21 оценивается 1 баллом. Задание считается выполненным верно, если ответ записан в той форме, которая указана в инструкции по выполнению задания, и полностью совпадает с эталоном ответа. В ответах на задания 6, 9, 10 порядок записи символов значения не имеет.

Правильное выполнение задания 5 оценивается 2 баллами. Задание считается выполненным верно, если ответ записан в той форме, которая указана в инструкции по выполнению задания, и полностью совпадает с эталоном ответа: каждый символ в ответе стоит на своём месте, лишние символы в ответе отсутствуют. Выставляется 1 балл, если на любой одной позиции ответа записан не тот символ, который представлен в эталоне ответа. Во всех других случаях выставляется 0 баллов. Если количество символов в ответе больше требуемого, выставляется 0 баллов вне зависимости от того, были ли указаны все необходимые символы.

Правильное выполнение задания 12 оценивается 2 баллами. Задание считается выполненным верно, если ответ записан в той форме, которая указана в инструкции по выполнению задания, каждый символ присутствует в ответе, в ответе отсутствуют лишние символы. Порядок записи символов в ответе значения не имеет. Выставляется 1 балл, если только один из символов, указанных в ответе, не соответствует эталону (в том числе есть один лишний символ наряду с остальными верными) или только один символ отсутствует; во всех других случаях выставляется 0 баллов.

Номер задания	Правильный ответ			
1	Аргентина			
2	123		321	
3	231		213	
4	321		312	
5	652	345	652	615
6	256		136	
7	231			
8	123		132	
9	125		346	
10	23			
11	123		312	
12	14			
13	321			
14	23			
15	124			
16	-4,9		-432	
17	Япония			
18	Карелия			
19	132			
20	213			
21	Дальний Восток			

Критерии оценивания выполнения заданий с развёрнутым ответом

ССК «Звезда» построил два уникальных судна

В сентябре 2023 г. в присутствии Президента России В.В. Путина на судостроительном комплексе «Звезда» в Приморском крае были спущены на воду два уникальных судна. Одно из них – единственный в мире по своим характеристикам танкер-челнок усиленного ледового класса, построенный по заказу «Роснефтефлота». Другое судно – газовоз ледового класса, предназначенный для перевозки сжиженного природного газа и способный работать в суровых климатических условиях. В движение судно приводят три уникальные винто-рулевые колонки, которые производятся в городе Большой Камень на предприятии ВРК «Сапфир». Строительство этих судов – ещё один пример успешного импортозамещения.

- 22** Объясните, что означает использованный в тексте термин «импортозамещение».

Содержание верного ответа и указания по оцениванию (допускаются иные формулировки ответа, не искажающие его смысла)	Баллы
В ответе говорится, что импортозамещение – это замена товаров иностранного производства отечественными аналогами	
Ответ включает в себя названный выше элемент	1
Все ответы, которые не соответствуют вышеуказанным критериям выставления оценки в 1 балл	0
<i>Максимальный балл</i>	<i>1</i>

- 23** С чем связана актуальность для России строительства танкеров и газовозов ледового класса в настоящее время?

Содержание верного ответа и указания по оцениванию (допускаются иные формулировки ответа, не искажающие его смысла)	Баллы
В ответе говорится о наличии крупных месторождений нефти и природного газа на шельфе морей Северного Ледовитого океана, ИЛИ о развитии судоходства на Северном морском пути, ИЛИ об увеличении экспорта нефти или сжиженного природного газа в страны Азиатско-Тихоокеанского региона, ИЛИ об увеличении доли морского транспорта в экспорте нефти, ИЛИ об увеличении объёмов экспорта сжиженного природного газа	
Ответ включает в себя названный выше элемент	1
Все ответы, которые не соответствуют вышеуказанным критериям выставления оценки в 1 балл	0
<i>Максимальный балл</i>	<i>1</i>

- 24** На основе анализа данных таблиц справочных материалов предположите, какая из стран: Алжир или Боливия – находилась в 2017 г. выше в рейтинге ООН по индексу человеческого развития (ИЧР). Для обоснования Вашего ответа запишите необходимые числовые данные из таблиц и вычисления, на основании которых Вы сделали своё предположение.

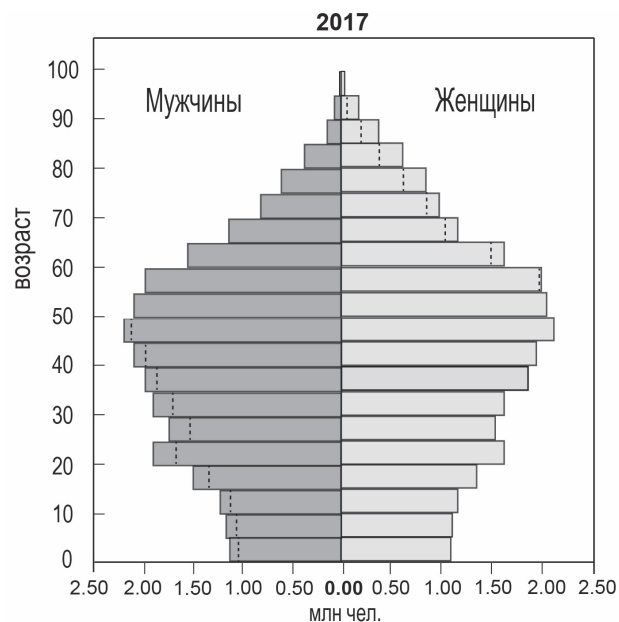
Содержание верного ответа и указания по оцениванию (допускаются иные формулировки ответа, не искажающие его смысла)	Баллы
1) В ответе делается предположение, что выше в рейтинге ООН по ИЧР находился Алжир. В обосновании говорится, что: 2) в Алжире более высокая средняя ожидаемая продолжительность жизни населения, ИЛИ приводятся значения показателя средней ожидаемой продолжительности жизни населения: 77 лет в Алжире и 69 лет в Боливии; 3) в Алжире выше ВВП на душу населения, и приводятся значения показателя ВВП: 15 049 долл. в Алжире и 7593 долл. в Боливии ИЛИ в Алжире выше ВВП на душу населения, и приводятся вычисления: $642\ 600 : 42,7$ в Алжире и $85\ 800 : 11,3$ в Боливии	
Ответ включает в себя все три названных выше элемента	2
Ответ включает в себя два (1-й и 2-й) из названных выше элементов. ИЛИ Ответ включает в себя два (1-й и 3-й) из названных выше элементов	1
Все ответы, которые не соответствуют вышеуказанным критериям выставления оценок в 1 и 2 балла	0
<i>Максимальный балл</i>	2

- 25** Используя данные справочных материалов, сравните доли населения, занятого в сельском хозяйстве, и доли сельского хозяйства в общих объёмах экспорта Судана и Марокко. Сделайте вывод, в какой из этих стран сельское хозяйство играло большую роль в экономике в 2017 г. Для обоснования Вашего ответа запишите необходимые числовые данные и вычисления.

Содержание верного ответа и указания по оцениванию (допускаются иные формулировки ответа, не искажающие его смысла)	Баллы
В ответе говорится, что: 1) доля населения, занятого в сельском хозяйстве, в Судане выше, чем в Марокко, ИЛИ приводятся значения: 52 % в Судане и 37 % в Марокко; 2) доля сельского хозяйства в общем объёме экспорта Судана выше, чем в общем объёме экспорта Марокко; 3) для определения доли сельского хозяйства в общем объёме экспорта Судана приводятся вычисления: 2 : 3; для определения доли сельского хозяйства в общем объёме экспорта Марокко приводятся вычисления: $5,5 : 25,3$ ИЛИ приводятся значения: 66,6 % в Судане и 21,7 % в Марокко; 4) сельское хозяйство играло большую роль в экономике Судана	
Ответ включает в себя все четыре названных выше элемента	2
Ответ включает в себя три (любых) из названных выше элементов	1
Все ответы, которые не соответствуют вышеуказанным критериям выставления оценок в 1 и 2 балла	0
<i>Максимальный балл</i>	2

26

В 2017 г. численность населения Республики Корея составляла 51 млн человек, рождаемость – 8 ‰, смертность – 6 ‰. При этом значение суммарного коэффициента рождаемости – числа рождений, приходящихся на одну женщину в возрасте от 15 до 49 лет – составляло 1,25. Ниже приводится половозрастная пирамида Республики Корея в 2017 г.



Объясните, почему в Республике Корея в ближайшие 20 лет при сохранении такого же суммарного коэффициента рождаемости, как в 2017 г., прогнозируется уменьшение рождаемости и увеличение смертности. Укажите две причины.

Содержание верного ответа и указания по оцениванию (допускаются иные формулировки ответа, не искажающие его смысла)	Баллы
<p>В ответе указаны следующие причины:</p> <p>1) ежегодное число родившихся будет уменьшаться из-за уменьшения в ближайшие годы численности женщин в возрасте 15–49 лет</p> <p>ИЛИ ежегодное число родившихся будет уменьшаться из-за уменьшения в ближайшие годы доли женщин в возрасте 15–49 лет в общей численности населения;</p> <p>2) смертность будет возрастать из-за увеличения в общей численности населения доли лиц пожилого возраста</p>	

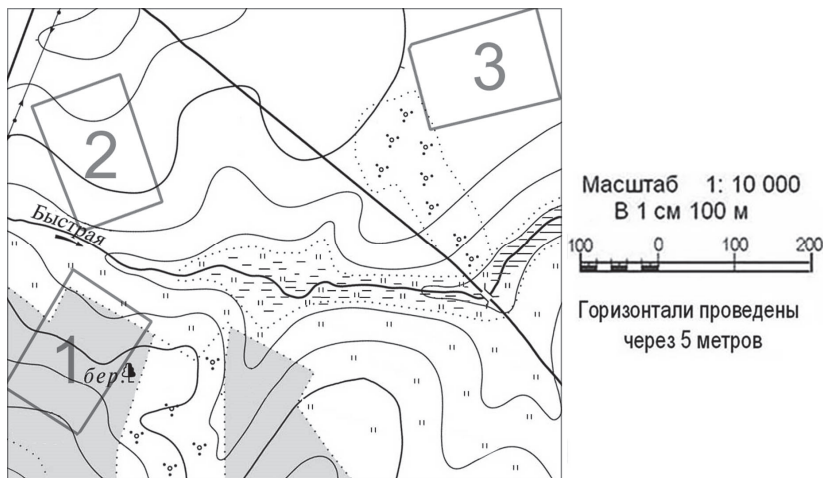
Ответ включает в себя оба названных выше элемента	2
Ответ включает в себя один (любой) из названных выше элементов. ИЛИ Ответ включает в себя оба названных выше элемента, но в нём присутствует географическая ошибка	1
Все ответы, которые не соответствуют вышеуказанным критериям выставления оценок в 1 и 2 балла	0
<i>Максимальный балл</i>	2

ИЛИ

В условиях длинного полярного дня температура воздуха в Арктике в летние месяцы повышается, но при этом на большей части акватории она не превышает 0 °С. Почему в Арктике температура воздуха самого тёплого месяца близка к 0 °С, при том что Солнце в это время не заходит за горизонт? Укажите две причины.

Содержание верного ответа и указания по оцениванию (допускаются иные формулировки ответа, не искажающие его смысла)	Баллы
<p>В ответе могут быть указаны следующие причины:</p> <p>1) низкий угол падения солнечных лучей;</p> <p>2) высокая отражательная способность поверхности;</p> <p>3) значительные затраты тепла на таяние снега и многолетней мерзлоты, а не на нагревание воздуха</p>	
Ответ включает в себя два (любых) из названных выше элементов	2
Ответ включает в себя один (любой) из названных выше элементов. ИЛИ Ответ включает в себя два (любых) из названных выше элементов, но в нём присутствует географическая ошибка	1
Все ответы, которые не соответствуют вышеуказанным критериям выставления оценок в 1 и 2 балла	0
<i>Максимальный балл</i>	2

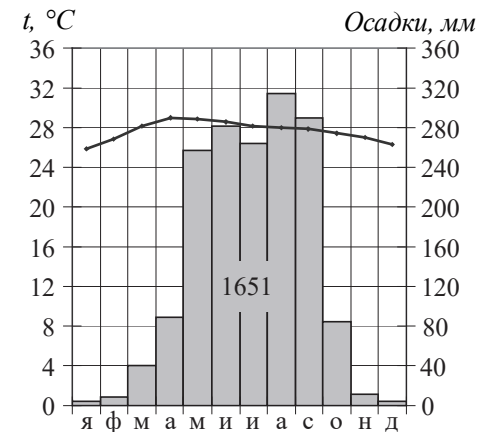
27 Определите, в пределах какого из участков, обозначенных на карте цифрами 1, 2 и 3, наиболее вероятно развитие водной эрозии почвенного слоя. Для обоснования Вашего ответа приведите два довода.



Содержание верного ответа и указания по оцениванию (допускаются иные формулировки ответа, не искажающие его смысла)	Баллы
1) В ответе говорится, что наиболее вероятно развитие эрозии на участке 2. В обосновании говорится, что: 2) участок находится на склоне ИЛИ поверхность участка 3 пологая; 3) территория участка распахана, ИЛИ не имеет растительности, ИЛИ поверхность участка 1 закреплена растительностью	2
Ответ включает все три названных выше элемента	2
Ответ включает два (1-й и 2-й или 1-й и 3-й) из названных выше элементов. ИЛИ В ответе указан участок 3 и присутствует 3-й элемент. ИЛИ В ответе указан участок 1 и присутствует 2-й элемент. ИЛИ Ответ включает в себя все три названных выше элемента, но в нём присутствует географическая ошибка	1
Все ответы, которые не соответствуют вышеуказанным критериям выставления оценок в 1 и 2 балла	0
<i>Максимальный балл</i>	2

ИЛИ

Определите, в каком из 13 климатических поясов Земли расположен пункт, характеристики климата которого показаны на климатограмме. Для обоснования Вашего ответа приведите два довода.



Содержание верного ответа и указания по оцениванию (допускаются иные формулировки ответа, не искажающие его смысла)	Баллы
В ответе говорится, что 1) пункт расположен в субэкваториальном поясе Северного полушария. В обосновании говорится, что: 2) температура воздуха в июне выше, чем в январе ИЛИ годовой ход среднемесячных температур воздуха характерен для субэкваториального пояса Северного полушария; 3) основная масса атмосферных осадков выпадает в летнее время ИЛИ ярко выражены сухой и влажный сезоны	2
Ответ включает в себя все три названных выше элемента	2
Ответ включает в себя два (любых) из названных выше элементов. ИЛИ Ответ включает в себя все три названных выше элемента, но в нём присутствует географическая ошибка	1
Все ответы, которые не соответствуют вышеуказанным критериям выставления оценок в 1 и 2 балла	0
<i>Максимальный балл</i>	2

- 28** Определите географическую долготу пункта, если известно, что в полдень по солнечному времени Гринвичского меридиана местное солнечное время в нём 14 ч 40 мин. Запишите решение задачи.

Содержание верного ответа и указания по оцениванию (допускаются иные формулировки ответа, не искажающие его смысла)	Баллы
Решение: 1) Разница во времени с Гринвичским меридианом составляет 2 ч 40 мин., значит, разница в долготе составляет: $15^\circ \times 2 + 15^\circ : 3 \times 2 = 40^\circ$; 2) время в пункте больше времени на Гринвичском меридиане, значит, пункт расположен в Восточном полушарии. Ответ: 40° в.д.	
Приведена верная последовательность шагов решения, и правильно определена долгота пункта	2
Приведена верная последовательность шагов решения, но получен неверный ответ, так как допущена ошибка при определении разницы во времени. ИЛИ Приведена верная последовательность шагов решения, и правильно определена разница в долготе, но получен неверный ответ, так как допущена ошибка при определении значения долготы пункта в градусах. ИЛИ Указан неверный ответ, так как не определено или неверно определено полушарие, в котором расположен пункт. ИЛИ Указан верный ответ, но отсутствует запись решения	1
Все случаи решения, которые не соответствуют вышеуказанным критериям выставления оценок в 1 и 2 балла	0
<i>Максимальный балл</i>	2

ИЛИ

С корабля, находящегося в точке с координатами 3° с.ш. 134° в.д., поступило радиосообщение о неисправности двигателя. Какое расстояние (в км) до неисправного судна пройдёт ремонтный корабль из порта Маноквари (0° ш. 134° в.д.), если известно, что корабль будет идти строго по меридиану, а неисправное судно останется в той же точке, откуда было передано сообщение? Ответ округлите до целого числа. Запишите решение задачи.

Содержание верного ответа и указания по оцениванию (допускаются иные формулировки ответа, не искажающие его смысла)	Баллы
Решение: $(3 - 0) \times 111 \text{ км} = 333 \text{ км}$ Ответ: 333 км. (Так как длина дуги 1° меридиана на разных широтах различна, то как верный засчитывается любой ответ в интервале от 333 до 335 км при условии, что в решении используется значение длины дуги 1° меридиана, отличное от 111 км, но находящееся в интервале от 111,0 до 111,7 км.)	
Приведена запись решения, и правильно определено расстояние	2
Приведена верная последовательность шагов решения, но получен неверный ответ, так как допущена ошибка в определении расстояния в градусах. ИЛИ Указан неверный ответ, так как допущена ошибка при вычислении расстояния в километрах. ИЛИ Указан верный ответ, но отсутствует запись решения	1
Все случаи решения, которые не соответствуют вышеуказанным критериям выставления оценок в 1 и 2 балла	0
<i>Максимальный балл</i>	2

- 29** Площади под плантациями масличной пальмы в тропических странах и объёмы производства пальмового масла растут с каждым годом. Пальмовое масло используется как для изготовления продуктов питания и косметики, так и в производстве биотоплива для автомобилей. Между учащимися на уроке возникла дискуссия, в ходе которой часть из них придерживалась той точки зрения, что расширение производства и использования пальмового масла способствует сохранению окружающей среды. Другие утверждали, что расширение производства и использования пальмового масла препятствует сохранению окружающей среды. Приведите по одному аргументу в поддержку каждой из точек зрения.

Содержание верного ответа и указания по оцениванию (допускаются иные формулировки ответа, не искажающие его смысла)		Баллы
K1	Обоснование точек зрения	
	В ответе приводятся правильные аргументы в защиту каждой из точек зрения: 1) аргумент, подтверждающий точку зрения, согласно которой производство и использование пальмового масла способствует сохранению окружающей среды: использование пальмового масла для производства биотоплива помогает сберечь невозобновимые источники энергии ИЛИ использование биотоплива на основе пальмового масла способствует снижению выбросов вредных веществ в атмосферу; 2) аргумент, подтверждающий точку зрения, согласно которой производство и использование пальмового масла препятствует сохранению окружающей среды: сведение тропических лесов для расширения пальмовых плантаций, ИЛИ изменение газового состава атмосферы, ИЛИ исчезновение уникальных экосистем	2
	В ответе приводятся правильные аргументы (аргумент) в защиту только одной из точек зрения	1
	В ответе отсутствуют правильные аргументы	0

K2 Географическая грамотность		
<i>1 балл по критерию K2 может быть выставлен только в случае, если по критерию K1 выставлено 1 или 2 балла</i>		
	Отсутствуют фактические и теоретические ошибки (ошибки в использовании географической терминологии, в демонстрации знаний о географических связях и закономерностях). ИЛИ Присутствует не более одной фактической или теоретической ошибки	1
	Все ответы, которые не соответствуют вышеуказанным критериям выставления оценки в 1 балл	0
<i>Максимальный балл</i>		3

В соответствии с Порядком проведения государственной итоговой аттестации по образовательным программам среднего общего образования (приказ Минпросвещения России и Рособrnнадзора от 04.04.2023 № 233/552, зарегистрирован Минюстом России 15.05.2023 № 73314)

«81. Проверка экзаменационных работ включает в себя:

1) проверку и оценивание предметными комиссиями ответов на задания КИМ для проведения ЕГЭ с развёрнутым ответом <...>, в том числе устных ответов, в соответствии с критериями оценивания по соответствующему учебному предмету, разработка которых организуется Рособrnнадзором¹. <...>

По результатам первой и второй проверок эксперты независимо друг от друга выставляют первичные баллы за каждый ответ на задания КИМ для проведения ЕГЭ с развёрнутым ответом. <...>

В случае существенного расхождения в первичных баллах, выставленных двумя экспертами, назначается третья проверка. Существенное расхождение в первичных баллах определено в критериях оценивания по соответствующему учебному предмету, разработка которых организуется Рособrnнадзором.

Эксперту, осуществляющему третью проверку, предоставляется информация о первичных баллах, выставленных экспертами, ранее проверявшими экзаменационную работу».

Существенными считаются следующие расхождения.

1. Расхождение между баллами, выставленными двумя экспертами за выполнение любого из заданий 24–28, составляет 2 балла. В этом случае третий эксперт проверяет только те ответы на задания, которые вызвали столь существенное расхождение в оценивании.

3. Расхождение между суммами баллов, выставленных двумя экспертами за выполнение задания 29 по всем критериям оценивания выполнения этого задания, составляет 2 или более балла. В этом случае третий эксперт выставляет баллы за выполнение этого задания по всем критериям оценивания выполнения этого задания.

4. Расхождение в результатах оценивания двумя экспертами ответа на одно из заданий 22–29 заключается в том, что один эксперт указал на отсутствие ответа на задание в экзаменационной работе, а другой эксперт выставил за выполнение этого задания ненулевой балл. В этом случае третий эксперт проверяет только ответы на задания, которые были оценены со столь существенным расхождением.

5. Ситуации, в которых один эксперт указал на отсутствие ответа в экзаменационной работе, а второй эксперт выставил нулевой балл за выполнение этого задания, не являются ситуациями существенного расхождения в оценивании.

¹ Часть 14 статьи 59 Федерального закона от 29.12.2012 № 273-ФЗ «Об образовании в Российской Федерации».